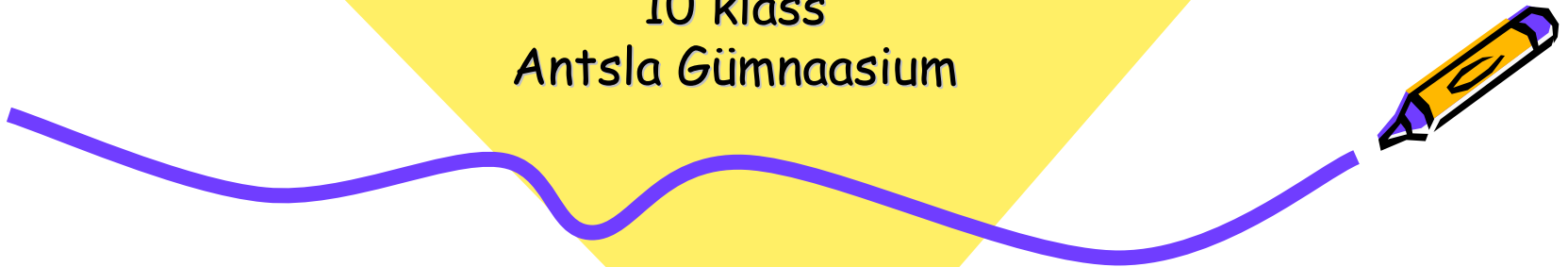




Kodused tööd

Füüsika
10 klass
Antsla Gümnaasium



Lahenda järgmised ülesanded. ÜI kogust

- 4.4/38
- 4.6/38
- 4.7/38
- Ülesanded olemas ka aine
koduleheküljel.



Kodus ed iisanded

Jähtaeg: 15.11

4.4/38 Ratas raadiusega $0,3\text{ m}$
pöörleb nurkikiirusega $10 \frac{\text{rad}}{\text{s}}$.
Mikiline on ratta äärmiste punktide
joonkiirus?

4.6/38 Voolumõõlja kitar beji 2 minutiga

40 pööret. Arvuta ketta
pöörlemisperiood.

4.7/38 Grammafoniplaat teigi 3 minutiga

100 pööret. Arvuta plaadi
pöörlemissagedus.

Täna tähelepanu eest!!!
Edukat lahendamist!!!😊😊😊

